

CONCURSO PÚBLICO DA FUNDAÇÃO DE ENSINO TÉCNICO INTENSIVO "DR. RENÊ BARSAM - FETI"

CARGO DE NÍVEL MÉDIO MOTORISTA DE VEÍCULOS OFICIAIS

INSTRUÇÕES GERAIS

1. A prova terá, no máximo, **4 (quatro)** horas de duração, incluído o tempo destinado à transcrição do gabarito na Folha de Respostas, único documento válido para correção.
2. O candidato deverá conferir os seus dados pessoais na Folha de Respostas, em especial seu nome e o número do documento de identidade.
3. Não haverá substituição da Folha de Respostas por erro do candidato ou por qualquer outro dano.
4. O candidato só poderá se retirar do recinto após **60 (sessenta) minutos**, contados a partir do efetivo início da prova.
5. Este caderno contém 40 questões de múltipla escolha, assim distribuídas:
 - Língua Portuguesa: 9 questões (numeradas de 01 a 09);
 - Conhecimentos Gerais e Atualidades: 6 questões (numeradas de 10 a 15);
 - Matemática: 9 questões (numeradas de 16 a 24);
 - Regimento Interno e Estatuto FETI: 6 questões (numeradas de 25 a 30);
 - Conhecimentos Específicos: 10 questões (numeradas de 31 a 40).
6. Cada questão apresenta 4 alternativas, de (a) a (d). O candidato deverá lê-las, atentamente, antes de responder a elas.
7. Caso o Caderno não corresponda ao cargo de inscrição, esteja incompleto ou com defeito, o candidato deverá solicitar ao aplicador, durante os primeiros **20 minutos**, as providências cabíveis.
8. É responsabilidade do candidato conferir se a informação na capa desse Caderno (**TIPO 1** ou **TIPO 2**) é a mesma da Folha de Respostas. Caso esteja diferente, o candidato deverá solicitar ao aplicador, durante os primeiros **20 minutos**, as providências cabíveis.
9. O candidato deverá entregar ao aplicador este Caderno de Provas e a Folha de Respostas.
10. O candidato passará o Gabarito para a Folha de Respostas, utilizando caneta esferográfica azul ou preta.

ATENÇÃO: FOLHA DE RESPOSTAS SEM ASSINATURA NÃO TEM VALIDADE

A folha de respostas não deve ser dobrada, amassada ou rasurada

Nome do candidato

Por favor, abra somente quando autorizado.

LÍNGUA PORTUGUESA

As questões de 01 a 06 se referem ao texto seguinte.

Merduchos*

Eles nunca foram tantos como no Brasil atual, em que os mais ricos ganham e os mais pobres perdem renda

Álvaro Costa e Silva**

O escritor João Antônio (1937-1996) andava na rua com o ouvido espichado para a fala do povo. Um hábito adquirido em São Paulo, sua cidade natal, e que trouxe para o Rio, onde se fez carioca de Copacabana. Ao capturar uma palavra, uma expressão, um xingamento, anotava no papel do maço de cigarros Plaza – “qualquer boteco é lugar para escrever quando se carrega a gana de transmitir”, costumava dizer – para depois passar a limpo num caderno de telefones com sua letra miúda. Em vez de números, definições do que foi pescado ao sabor das circunstâncias. Um exemplo do dicionário das calçadas: “Água (aquela): situação ruim”.

Na novela “Paulinho Perna Torta”, essa coleta vira literatura num chorrilho de sinônimos para dinheiro: “o carvão, o mocó, a gordura, o maldito, o tutu, o poroló, o mango, o vento, a granuncha, a seda, a gaita, o capim, o cobre, a manteiga”.

Eles nunca foram tantos como no Brasil atual. A desigualdade no país, que já é um dos mais desiguais do mundo, só faz crescer. Pesquisa recente divulgada pelo IBGE mostra que, por qualquer medida, no último ano os mais ricos ganharam e os mais pobres perderam renda. O efeito da crise econômica no mercado de trabalho conseguiu até que os desempregados mudassem de nome – agora são chamados de empreendedores.

No conto “Três Cunhadas - Natal 1960”, um personagem de João Antônio mal consegue andar na rua da Carioca de tanta gente: “A gritaria dos camelôs parece um comando. E os óculos franceses vieram de Cascadura, a seda do Japão saiu de algum muquinfo das beiradas da Central”. Experimente passar lá hoje. Não tem ninguém.

Folha de São Paulo, Opinião, 22 out. 2019, p. A 2. Adaptado.

* O mesmo que trapaceiros, malandros, ladrões.

** Jornalista, atuou como repórter e editor. É autor de **Dicionário Amoroso do Rio de Janeiro**.

QUESTÃO 01

O termo “merduchos”, que dá título ao texto, não está dicionarizado. Foi escolhido pelo cronista porque ele reflete uma característica própria da recolha de palavras, que faz parte da ficção do escritor João Antônio.

Com base nessa informação e de acordo com o texto, a frase que **NÃO** exemplifica um tipo específico de variante linguística registrada por João Antônio nas suas anotações é:

- a) “Eles nunca foram tantos como no Brasil atual.”
- b) “... andava na rua com o ouvido espichado para a fala do povo.”
- c) “Ao capturar uma palavra, uma expressão, um xingamento, anotava no papel...”
- d) “Em vez de números, definições do que foi pescado ao sabor das circunstâncias.”

QUESTÃO 02

O texto é uma crônica jornalística e manifesta, em alguns momentos, aspectos do repertório linguístico e cultural do Rio de Janeiro. Nesse sentido, singulariza uma forma do falar popular carioca denominada

- a) gíria.
- b) jargão.
- c) norma-padrão.
- d) variedade urbana de prestígio.

QUESTÃO 03

Considerando o contexto de uso e sem que haja prejuízo para o sentido pretendido, a palavra em destaque na frase “Na novela ‘Paulinho Perna Torta’, essa coleta vira literatura num chorrilho de sinônimos para dinheiro...” pode ser substituída **EXCETO** por

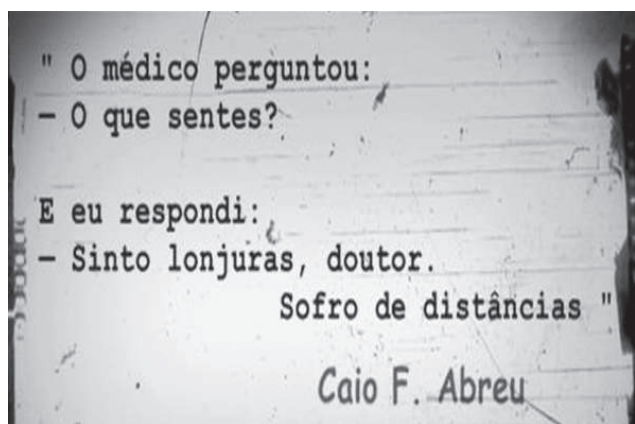
- a) lista.
- b) série.
- c) contraste.
- d) sequência.

QUESTÃO 04

Segundo Bueno (2014, p. 556), “o código linguístico é o destaque dessa função. A linguagem é o tema ao falar da própria linguagem, ou seja, o emissor emprega seu próprio código para explicar sobre termos e situações que envolvem a linguagem.”

O conceito da função da linguagem veiculado pelo gramático está explicitado na frase transcrita do texto “Um exemplo do dicionário das calçadas: ‘Água (aquela): situação ruim.’” (1º §) e, também, predomina em

a)



Disponível em: <<http://wany-evo.blogspot.com/2013/05/caio-f-abreu-o-que-sentes.html>>. Acesso em: 03 jan. 2020.

b)



Disponível em: <http://gatasnotelhado.blogspot.com/2014/11/mensagem-do-dia_30.html>. Acesso em: 03 jan. 2020.

c)

TELEFONIA MÓVEL



Chargeonline.com.br - © Copyright do autor

Disponível em: <<https://slideplayer.com.br/slide/1870179/>>. Acesso em: 03 jan. 2020.

d)



Disponível em: <<https://conversadeportugues.com.br/2010/08/ironia/>>. Acesso em: 03 já. 2020.

QUESTÃO 05

Segundo Bueno (2014, p. 540), “uma mesma palavra pode apresentar diferentes significados conforme o contexto em que foi empregada.”

A partir desse pressuposto, a frase na qual há palavras ou expressões empregadas no sentido figurado é:

- a) “... agora são chamados de empreendedores.”
- b) “... os mais ricos ganham e os mais pobres perdem...”
- c) “O escritor João Antônio (1937-1996) andava na rua...”
- d) “... definições do que foi pescado ao sabor das circunstâncias.”

QUESTÃO 06

Segundo Bueno (2014, p. 503), “A colocação dos pronomes oblíquos átonos considera, ao lado de normas gramaticais já estabelecidas, a sonoridade e a clareza da frase. [...] Essa colocação é classificada de próclise, mesóclise ou ênclise”.

A esse respeito, avalie o que se afirma sobre o posicionamento do pronome oblíquo átono na frase: “... quando se carrega a gana de transmitir’, costumava dizer”.

I – Privilegia-se a próclise por conta da presença de uma partícula atrativa.

II – Deve ficar enclítico porque a oração apresenta um verbo no infinitivo impessoal.

III – É mais correta a mesóclise, pois expõe um pronome indefinido na função de sujeito.

IV – Está próclítico por causa do advérbio que antecede o verbo sem a existência de uma pausa.

Está correto **apenas** o que se afirma em

- a) I e II.
- b) I e IV.
- c) II e III.
- d) III e IV.

QUESTÃO 07

Preencha corretamente as lacunas que contêm informações sobre a coesão textual, a concordância e a regência nominal e verbal.

- Na frase “Fazem muitos meses que os mísseis atacaram o Irã”, há um erro de concordância verbal, porque o verbo “fazer” indicando _____ é impessoal e fica na terceira pessoa do singular.

- Em “A janela está meia aberta porque o calor intenso incomoda”, empregou-se inadequadamente a palavra _____, pois nesse tipo de concordância ela tem valor de um advérbio e não de um adjetivo.

- No período “O executivo aspirava uma posição melhor, já que o diretor prometeu valorizá-lo”, há uma inadequação, pois o verbo _____ é regido por uma preposição, caracterizando uma regência verbal.

- A oração “Os políticos pareciam insensíveis para a dor dos moradores daquela cidadezinha interiorana” apresenta um erro de _____.

- No período “O frio era insuportável, mas a ventania sufocante; ela chegou tarde, mas assistiu ao espetáculo”, para se manter a articulação entre as partes, empregou-se o conector “mas” em duas ocorrências, que, nesse contexto, possui significações opostas: o primeiro apresenta uma noção de _____ e o segundo, de _____.

A sequência que preenche corretamente as lacunas do texto é

- a) tempo / aberta / prometeu / regência nominal / contraste / adição.
- b) concessão / aberta / aspirava / regência verbal / contraste / adição.
- c) tempo / meia / aspirava / regência nominal / adição / contraste.
- d) concessão / meia / prometeu / concordância verbal/ adição / contraste.

QUESTÃO 08

O texto a seguir é uma charge.



Disponível em: <<https://patchworkdasideias.blogspot.com/2015/01/argumento-de-mae-e-lei.html?sref=pi>>. Acesso em: 03 jan. 2020.

Informe se é verdadeiro (V) ou falso (F) o que se afirma sobre esse gênero textual e as palavras que o compõem.

- () Os textos dos diálogos privilegiam a variante informal da língua portuguesa.
- () O “porque”, no segundo balão, está escrito corretamente, pois equivale a “uma vez que”.
- () As palavras e as imagens foram combinadas de maneira a enaltecer a resposta da mãe.
- () A grafia do “porque”, no primeiro balão, é adequada, pois se trata de uma frase interrogativa.

De acordo com as afirmações, a sequência correta é

- a) V, F, V, F.
- b) V, V, F, F.
- c) F, V, F, V.
- d) F, F, V, V.

QUESTÃO 09

O texto seguinte trata de um grave problema ambiental.



Disponível em: <<https://www.mercadoeventos.com.br/noticias/destinos/parque-das-aves-recebe-123-passaros-resgatados-no-primeiro-semester/>>. Acesso em: 03 jan. 2020. Adaptado.

Em relação ao infográfico, é correto afirmar que

- mais da metade do total de aves do Parque sofreu maus tratos ou é oriunda do tráfico.
- o número de aves recolhidas no Parque é inferior ao daquelas que ainda serão resgatadas.
- os dados informados são de momento e fornecidos por uma instituição localizada na região Sudeste.
- as péssimas condições ambientais estão listadas entre as características comuns observadas durante o resgate.

CONHECIMENTOS GERAIS E ATUALIDADES

QUESTÃO 10

De acordo com a Agência Nacional de Águas (ANA), apenas um setor no Brasil consome 70% da água doce do país, e quase metade desse montante é jogada fora.

Agência Nacional de Águas. 15/03/2019. Disponível em: <encurtador.com.br/fijDM>. Acesso em: 12 fev. 2020.

O setor que mais consome e desperdiça água doce no Brasil é o

- industrial.
- comercial.
- residencial.
- agropecuário.

QUESTÃO 11

Segundo o Estatuto da Fundação de Ensino Técnico Intensivo "Dr. Renê Barsam" (Art. 7º do Decreto nº 1489/ 2018), o recrutamento amplo e a livre nomeação e exoneração de seu Presidente são feitos pelo

- Prefeito Municipal.
- Ministro da Educação.
- Governador do Estado.
- Presidente da Câmara Municipal de Vereadores.

QUESTÃO 12

Leia esta manchete extraída do jornal O Globo.

“Lei de Aprendizagem é subaproveitada no Brasil. Programa que faz inclusão social e profissional de jovens de 14 a 24 anos é desconhecida ou ignorada por muitos empregadores”.

Disponível em: <<https://oglobo.globo.com/economia/lei-de-aprendizagem-subaproveitada-no-brasil-23378285>>. Acesso em 10 fev. 2020.

De acordo com o Art. 429, da Lei Federal 10.097/2000, os estabelecimentos de qualquer natureza são obrigados a empregar e matricular, nos cursos dos Serviços Nacionais de Aprendizagem, um percentual mínimo e máximo de seus trabalhadores, cujas funções demandem formação profissional.

Esse percentual mínimo e máximo corresponde, respectivamente, a

- cinco e quinze por cento.
- dez e vinte por cento.
- quinze e vinte e cinco por cento.
- vinte e trinta por cento.

QUESTÃO 13

Com base no Art. 11 da Portaria MTB Nº 634/2018, a parte teórica do contrato de aprendizagem deve ser desenvolvida

- pela entidade formadora.
- pela turma de aprendizes.
- pelo Ministério do Trabalho.
- pela empresa empregadora.

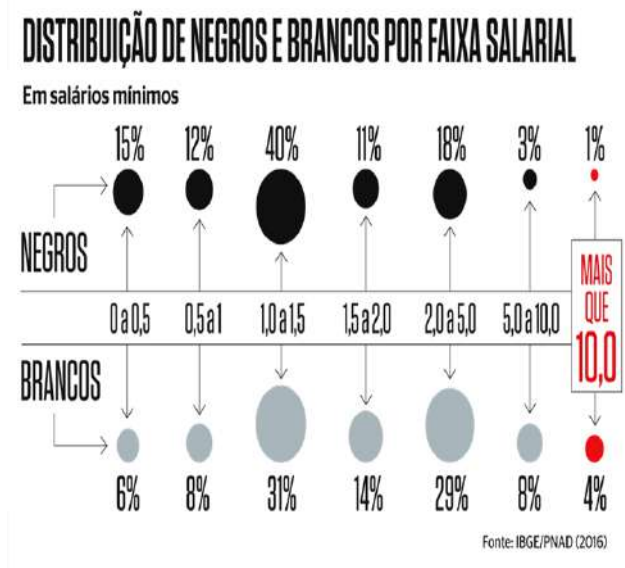
QUESTÃO 14

Nos últimos anos, o cinema brasileiro tem recebido grande visibilidade e reconhecimento internacional. Nesse contexto, um dos filmes indicados ao Oscar (*Academy Awards*) de *Hollywood* foi

- a) Ó Pai, Ó (2007), dirigido por Monique Gardenberg.
- b) 2 Filhos de Francisco (2005), dirigido por Breno Silveira.
- c) Cidade de Deus (2002), dirigido por Fernando Meirelles.
- d) Minha mãe é uma peça: o filme (2013), dirigido por André Pellenz.

QUESTÃO 15

A figura apresenta a distribuição percentual dos negros e brancos por faixa salarial, segundo dados da Pesquisa Nacional por Amostra de Domicílio (PNAD), de 2016.



Disponível em: <<https://istoe.com.br/continuamos-escravos/>>. Acesso em: 12 fev. 2020.

Com base na figura, avalie o que se afirma sobre a questão da remuneração dos trabalhadores negros e brancos no Brasil.

- I - Em média, a renda dos trabalhadores brancos é superior à dos negros.
- II - A maioria dos trabalhadores brancos ganha entre 2 e 5 salários mínimos.
- III - Apenas 4% dos trabalhadores negros ganham mais que 10 salários mínimos.

IV - Mais da metade (67%) dos trabalhadores negros recebe até 1,5 salários mínimos.

Está correto **apenas** o que se afirma em

- a) I e II.
- b) I e IV.
- c) II e III
- d) III e IV

MATEMÁTICA

QUESTÃO 16

Um determinado bairro é atendido por uma única linha de ônibus, que passa de 7 em 7 minutos no ponto localizado na praça do bairro. Considere que, às 14 horas e 32 minutos de certo dia, o ônibus passou nesse ponto. Assim, uma pessoa, que chegar nesse ponto às 20 horas e 35 minutos desse mesmo dia, terá que esperar, até que passe o próximo ônibus, um tempo, em minutos, igual a

- a) 3.
- b) 4.
- c) 5.
- d) 6.

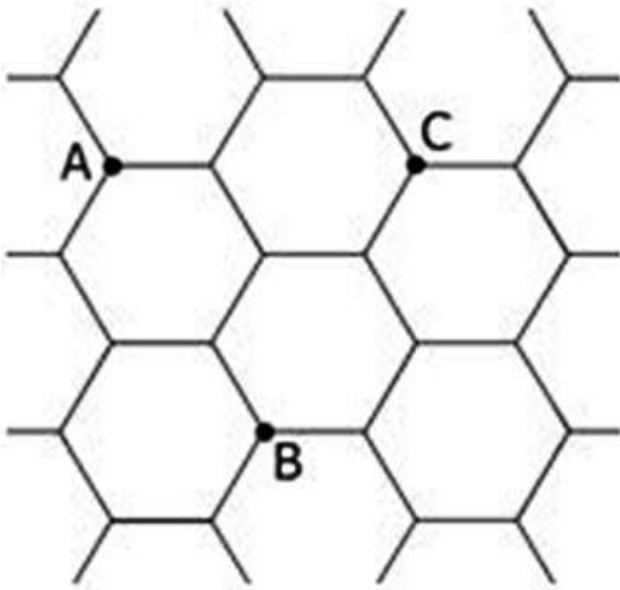
QUESTÃO 17

Dois irmãos, João e Antônio, possuem, cada um, uma coleção de miniaturas de carrinhos. A quantidade de carrinhos de João é um número de dois algarismos cuja soma é igual a 5. Invertendo-se esses dois algarismos, obtém-se o número de carrinhos da coleção de Antônio, que equivale à sua idade. Se Antônio tem 9 carrinhos a mais que João, então, a idade de Antônio é igual a

- a) 14.
- b) 23.
- c) 32.
- d) 41.

QUESTÃO 18

Observe a figura a seguir.



Essa figura representa uma parte de um piso formado por blocos hexagonais. Considere que os hexágonos ilustrados sejam regulares e os pontos A, B e C, vértices desses hexágonos. Se a área de cada hexágono é de 20 cm^2 , então a área do triângulo com vértices nos pontos A, B e C é, em cm^2 , igual a

- a) 20.
- b) 30.
- c) 40.
- d) 50.

QUESTÃO 19

Considere três frações F_1, F_2 e F_3 equivalentes a um número racional positivo representado pela fração irredutível $\frac{a}{b}$. Se a soma dos numeradores de F_1, F_2 e F_3 é igual a 72 e se a soma de seus denominadores é igual a 126, então $\frac{a}{b}$ é

- a) $\frac{4}{7}$.
- b) $\frac{2}{5}$.
- c) $\frac{3}{11}$.
- d) $\frac{1}{13}$.

QUESTÃO 20

A prefeitura de uma determinada cidade tem como plano diretor para a construção de casas residenciais uma determinação que permite que as construções cheguem a até 1 metro de distância das divisas no respectivo lote. Para os casos em que as construções ocorreram para além dessa limitação, foi criado um programa de regularização que consistia no pagamento de uma multa no valor de R\$ 75,40 para cada metro quadrado construído além do limite máximo estabelecido no plano diretor.

Uma pessoa que, na intenção de regularizar a sua construção, possui um total de $4,5 \text{ m}^2$ construídos irregularmente, pagará uma multa de

- a) R\$ 289,30.
- b) R\$ 305,43.
- c) R\$ 339,30.
- d) R\$ 385,43.

QUESTÃO 21

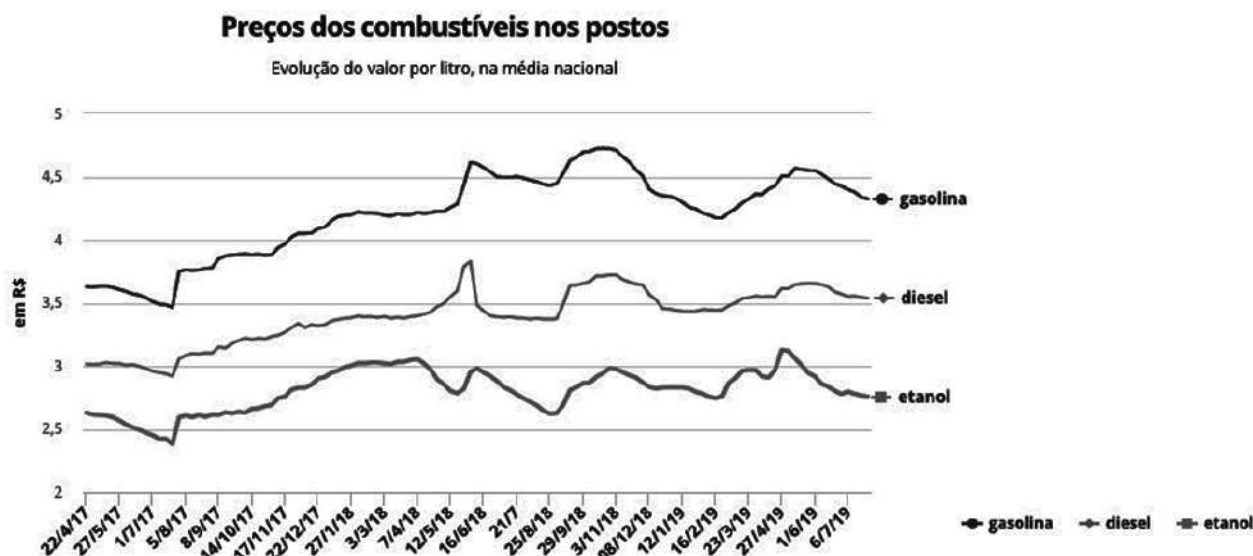
Roberto resolveu depositar moedas em seu cofrinho de modo que, a cada dia, depositará uma única moeda. No primeiro dia, ele colocará uma moeda de 1 real, no segundo dia será uma moeda de 50 centavos, no terceiro, uma de 25 centavos e, no quarto dia, uma moeda de 10 centavos. A partir daí seguirá a mesma sequência definida nos quatro primeiros dias, fazendo os depósitos diários, ou seja, no quinto dia depositará uma moeda de 1 real, no próximo dia uma de 50 centavos e assim por diante.

Se Roberto depositar a primeira moeda numa segunda-feira, o dia da semana do 1000º depósito e o valor acumulado no cofrinho após o depósito nesse dia serão, respectivamente, iguais a

- a) sábado e R\$ 462,50.
- b) sábado e R\$ 445,85.
- c) domingo e R\$ 462,50.
- d) domingo e R\$ 445,85.

QUESTÃO 22

O gráfico a seguir apresenta a variação dos valores da gasolina, do diesel e do etanol nos postos de combustível no Brasil entre abril de 2017 e julho de 2019.



Disponível em: <<https://g1.globo.com/economia/noticia/2019/07/26/preco-medio-da-gasolina-nas-bombas-cai-pela-11a-semana-seguida-diz-anp.ghtml>>. Acesso em: 16 mar. 2020.

Com base nesse gráfico,

- o valor mais frequente para os três combustíveis ocorreu em 12/05/18.
- a variação para os três combustíveis, de 22/04/17 a 08/09/17, foi a mesma.
- os três combustíveis tiveram o maior valor registrado para esse período no último trimestre de 2018.
- considerando os valores do primeiro e último períodos, nesse gráfico, para gasolina e diesel, verifica-se que a variação foi positiva.

QUESTÃO 23

Um mágico pediu a Ana que:

- pensasse em um número n , inteiro positivo,
- depois dobrasse esse número,
- em seguida adicionasse 10 ao resultado,
- dividisse essa soma por 2,
- e, finalmente, subtraísse do resultado da divisão o número n , obtendo o resultado final.

Ao final, o mágico indicou corretamente esse resultado, que é igual a

- 5.
- 7.
- 11.
- 15.

QUESTÃO 24

Clarice fez um empréstimo de R\$ 8.000,00 a uma taxa de juros de 5% ao mês, no regime de capitalização composta. Um mês após o empréstimo, pagou R\$ 4.000,00 e, dois meses após esse pagamento, resolveu quitar a dívida. Nesse caso, o valor que Clarice precisa pagar para fazer essa quitação é de

- R\$ 4.972,00.
- R\$ 4.896,00.
- R\$ 4.851,00.
- R\$ 4.783,00.

REGIMENTO INTERNO E ESTATUTO FETI

QUESTÃO 25

O Regimento Interno da FETI orienta que os recursos materiais adquiridos com verbas públicas

- a) fazem parte do seu patrimônio.
- b) pertencem ao seu núcleo diretor.
- c) ficam à disposição dos entes atendidos.
- d) devem ser partilhados entre seu quadro de servidores.

QUESTÃO 26

Preencha corretamente as lacunas do texto a seguir.

Em relação aos valores da Fundação, a _____ refere-se ao trabalho de todos de forma alinhada às diretrizes. A gestão focada no resultado considera a _____ dos servidores. As _____ contratantes dos aprendizes são alvo de estratégias de satisfação.

A sequência correta é

- a) ética / valorização / empresas
- b) didática / manifestação / ONGs
- c) moral / matrícula / indústrias
- d) organização / inscrição / estatais

QUESTÃO 27

A manutenção da disciplina e da ordem é um dever dos profissionais da FETI para o desenvolvimento

- a) das famílias atendidas.
- b) do entorno e da localidade urbana.
- c) da valorização do aprendiz atendido.
- d) do trabalho educativo profissionalizante.

QUESTÃO 28

Em relação aos deveres dos profissionais da FETI, é vedado

- a) conhecer e cumprir o regimento interno.
- b) deixar de apresentar os fatos, em seu nome.

c) praticar ato ostensivo à moral e aos bons costumes.

d) desempenhar suas funções nos horários estabelecidos.

QUESTÃO 29

Para a FETI as ações de integração, interação e promoção da educação para o trabalho e a cidadania constituem a sua

- a) visão.
- b) marca.
- c) missão.
- d) filosofia.

QUESTÃO 30

Para a FETI a busca pela excelência na formação humana e profissional de aprendizes à procura do primeiro emprego e de adultos em busca de inserção contempla

- a) a sua razão.
- b) a sua filosofia.
- c) o seu patrimônio.
- d) o seu objetivo geral.

CONHECIMENTOS ESPECÍFICOS

QUESTÃO 31

Quando uma pista de rolamento comportar várias faixas de trânsito no mesmo sentido, ficarão as faixas da

- a) direita, destinadas à ultrapassagem e ao deslocamento de veículos de maior velocidade.
- b) esquerda, destinadas à ultrapassagem e ao deslocamento de veículos de maior velocidade.
- c) direita e da esquerda, destinadas à ultrapassagem e ao deslocamento de veículos lentos.
- d) direita e da esquerda, destinadas aos veículos em caráter de emergência.

QUESTÃO 32

O procedimento correto para atendimento a uma vítima com sede é

- a) mantê-la em jejum.
- b) deixá-la beber água até se saciar.
- c) deixá-la beber água com açúcar.
- d) deixá-la beber somente água com remédios.

QUESTÃO 33

Um trecho de uma via de mão dupla é dividido ao centro por duas linhas amarelas contínuas. Isso significa que, nesse trecho, é

- a) proibido ultrapassar pela direita.
- b) proibido ultrapassar pela esquerda.
- c) proibido ultrapassar nos dois sentidos.
- d) permitido ultrapassar nos dois sentidos.

QUESTÃO 34

Conduzindo um veículo em uma via de duplo sentido de circulação e sem acostamento, o condutor que tenha o propósito de entrar à esquerda deverá sinalizar

- a) e aguardar no acostamento a oportunidade de realizar a manobra com segurança.
- b) observar e deslocar sempre com antecedência para a direita, considerada sua mão direcional.
- c) e deslocar, com antecedência, o veículo para a faixa mais à esquerda da sua mão direcional.
- d) e deslocar, com antecedência, o veículo para a esquerda ou mais à direita da sua mão direcional.

QUESTÃO 35

As crianças que deverão ser transportadas no banco traseiro de um veículo automotor são aquelas com idade inferior a

- a) 7 anos.
- b) 8 anos.
- c) 9 anos.
- d) 10 anos.

QUESTÃO 36

O condutor que foi multado por desobedecer à sinalização semaforica de regulamentação terá registrado em seu prontuário a pontuação equivalente a

- a) três pontos.
- b) quatro pontos.
- c) cinco pontos.
- d) sete pontos.

QUESTÃO 37

Nas rodovias onde não houver local apropriado para a operação de retorno ou entrada à esquerda, o condutor deverá parar

- a) junto ao eixo central.
- b) no acostamento à direita.
- c) no centro da faixa divisória.
- d) no acostamento à esquerda.

QUESTÃO 38

Em um cruzamento sem sinalização, o condutor defensivo deverá

- a) ligar os faróis altos do veículo e buzinar.
- b) apenas reduzir a velocidade.
- c) reduzir a velocidade e buzinar.
- d) parar o veículo, observar e transpor o cruzamento com segurança.

QUESTÃO 39

Para evitar as colisões nas interseções, é fundamental

- a) aumentar a velocidade.
- b) respeitar a preferência.
- c) diminuir a velocidade e buzinar.
- d) buzinar e ligar o farol alto.

QUESTÃO 40

A providência adotada por um condutor que se envolveu em acidente de trânsito com vítima(as) é

- a) seguir até um posto de fiscalização para registrar a ocorrência.
- b) comunicar imediatamente o fato ao(aos) familiar(es).
- c) retirar a(as) vítima(as) imediatamente da via pública.
- d) sinalizar imediatamente para que não aconteça outro acidente.

CONCURSO PÚBLICO DA FUNDAÇÃO DE ENSINO TÉCNICO INTENSIVO "DR. RENÊ BARSAM - FETI"

GABARITO (RASCUNHO)

01	A	B	C	D	21	A	B	C	D
02	A	B	C	D	22	A	B	C	D
03	A	B	C	D	23	A	B	C	D
04	A	B	C	D	24	A	B	C	D
05	A	B	C	D	25	A	B	C	D
06	A	B	C	D	26	A	B	C	D
07	A	B	C	D	27	A	B	C	D
08	A	B	C	D	28	A	B	C	D
09	A	B	C	D	29	A	B	C	D
10	A	B	C	D	30	A	B	C	D
11	A	B	C	D	31	A	B	C	D
12	A	B	C	D	32	A	B	C	D
13	A	B	C	D	33	A	B	C	D
14	A	B	C	D	34	A	B	C	D
15	A	B	C	D	35	A	B	C	D
16	A	B	C	D	36	A	B	C	D
17	A	B	C	D	37	A	B	C	D
18	A	B	C	D	38	A	B	C	D
19	A	B	C	D	39	A	B	C	D
20	A	B	C	D	40	A	B	C	D

ATENÇÃO:
AGUARDE AUTORIZAÇÃO
PARA VIRAR O CADERNO DE PROVA.